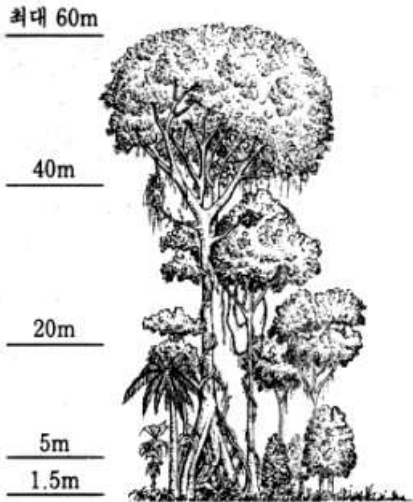


**선택과목**

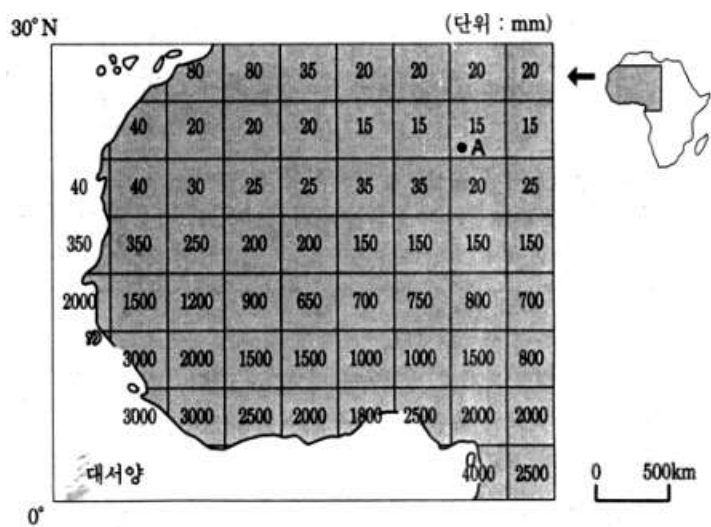
# 세계지리

71. 다음 그림은 영수가 외국 배낭 여행지에서 자연경관을 스케치한 것이다. 이 자연 경관과 관계가 깊은 것은?



- ① 포드졸 토양이 나타난다.
- ② 사계절이 뚜렷하게 나타난다.
- ③ 건기와 우기가 뚜렷이 구분된다.
- ④ 스콜(소나기)현상이 자주 발생한다.
- ⑤ 편서풍 지대에 속하여 온난 다습하다.

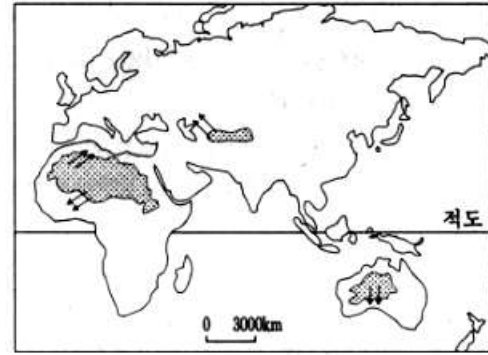
72. 다음 지도는 서부 아프리카 지역의 연평균 강수량을 나타낸 것이다. 강수량 분포를 분석하여 내릴 수 있는 결론으로 옳은 것을 <보기>에서 모두 고르면?



<보 기>

- ① ㄱ, ㄴ    ② ㄱ, ㄷ    ③ ㄴ, ㄷ    ④ ㄴ, ㄹ    ⑤ ㄷ, ㄹ

73. 지도상에 점들로 표시된 부분에서 화살표 방향으로 부는 바람의 공통적인 특성으로 맞는 것은? [2 점]



- ① 고온 다습하다.                      ② 한랭 습윤하다.
- ③ 건조한 바람이다.                  ④ 눈보라를 동반한다.
- ⑤ 폭풍우를 동반한다.

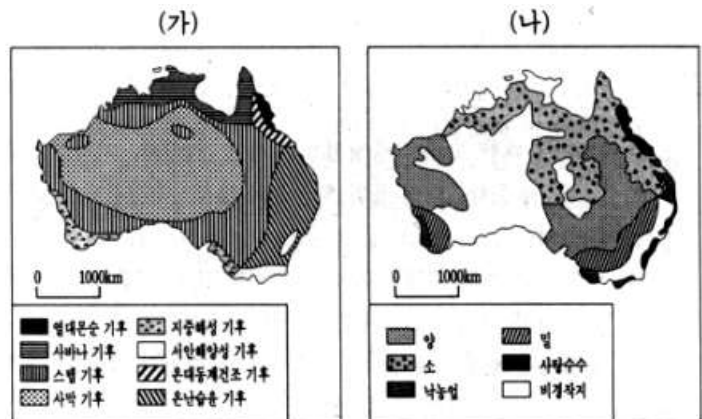
74. 다음은 소말리아, 노르웨이, 네팔, 르완다, 프랑스의 인구 특성을 임의로 열거한 것이다. 이 중 선진국형인 노르웨이와 프랑스의 인구특성을 묶은 것은? [2 점]

나라	10 만명 당 영아 사망자수	15 세 이하 인구 비율(%)
ㄱ	1,500	41
ㄴ	6	20
ㄷ	1,300	46
ㄹ	15	19
ㅁ	1,600	48
한국	130	22

(UN 통계, 1999 년)

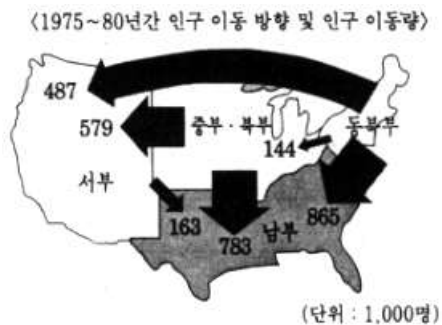
- ① ㄱ, ㄷ    ② ㄱ, ㅁ    ③ ㄴ, ㄷ    ④ ㄴ, ㄹ    ⑤ ㄹ, ㅁ

75. 지도 (가)는 오스트레일리아의 기후 지역을, (나)는 농업 지역을 나타낸다. 두 지도를 통해 기후와 농업 활동과의 관계를 바르게 추론한 것은?



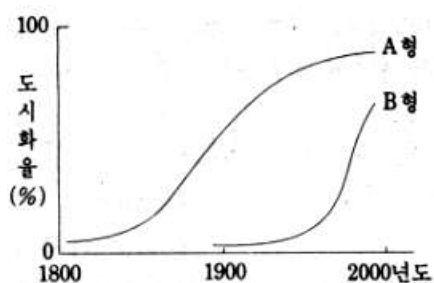
- ① 사막 기후 지역에서는 낙농업을 한다.
- ② 열대몬순 기후 지역에서는 밀을 재배한다.
- ③ 스텝 기후 지역에서는 양을 많이 방목한다.
- ④ 지중해성 기후 지역에서는 소를 많이 방목한다.
- ⑤ 온난습윤 기후 지역에서는 사탕수수를 많이 재배한다.

76. 다음 지도는 미국 내의 인구 이동량을 나타낸 것이다. 인구 이동 현상을 바르게 설명한 것은?



- ① 남부의 인구 흡인력이 가장 강하다.
- ② 동북부의 인구 입출력이 가장 약하다.
- ③ 중부·북부로부터 남부로의 이동은 허리케인 때문이다.
- ④ 동북부로부터 남부로의 이동량 중 멕시코계가 가장 많다.
- ⑤ 중부·북부로부터 서부로의 인구 이동량에는 쿠리 재배 농민이 가장 많다.

77. 다음 그림은 19세기 이래 세계 여러 나라의 도시화 유형을 A형과 B형으로 구분한 것이다. 이에 대한 설명으로 적절한 것을 <보기>에서 모두 고르면? [1점]

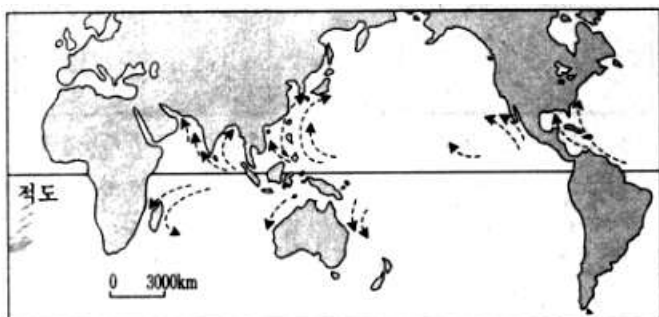


<보 기>

- ㄱ. A형의 도시화 역사는 B형보다 짧다.
- ㄴ. 개발 도상국들의 경우는 주로 A형에 해당된다.
- ㄷ. B형 국가에서는 과잉 도시화 현상이 나타난다.
- ㄹ. 20세기 후반부터는 B형 국가들의 도시화율이 급신장하고 있다.

- ① ㄱ, ㄴ    ② ㄱ, ㄷ    ③ ㄴ, ㄷ    ④ ㄴ, ㄹ    ⑤ ㄷ, ㄹ

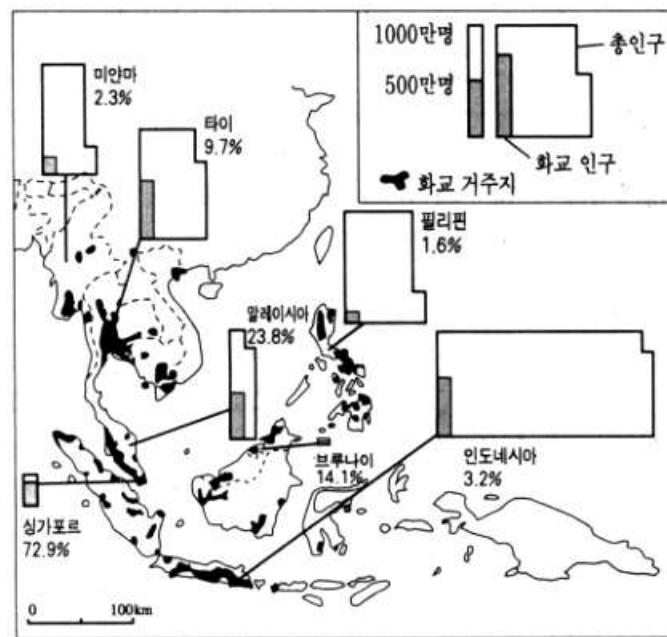
78. 다음 지도는 열대성 저기압의 이동 경로를 나타낸 것이다. 이 열대성 저기압의 특성을 잘못 설명한 것은?



- ① 대표적 사례로는 무역풍이 있다.
- ② 저위도 지역에서 중위도 지역으로 이동한다.
- ③ 육지에 상륙할 때, 극심한 풍수해를 유발한다.
- ④ 해안에서 만조와 겹치면 침수 피해가 더욱 커진다.

⑤ 육지에 상륙후 수분 공급이 급격히 감소하면 약화된다.

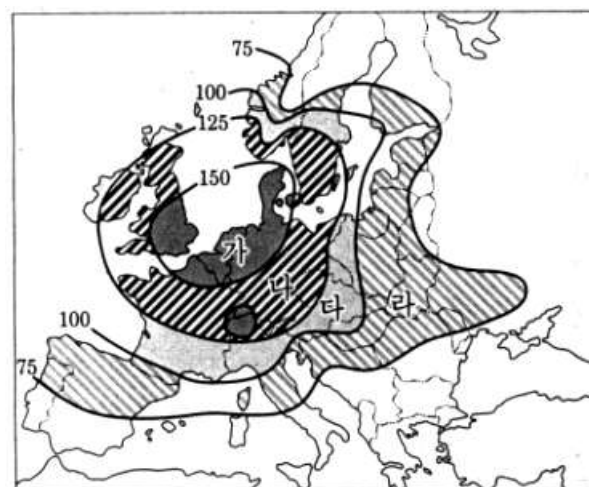
79. 다음 지도는 동남 아시아의 화교 분포를 보여주고 있다. 바르게 추론한 것은?



• %는 각 국가의 총인구 중 화교 인구 비율을 나타낸다.

- ① 화교는 인도를 거쳐 이주해 왔다.
- ② 화교는 중국 국경선 부근에 밀집한다.
- ③ 화교는 주로 스텝 기후 지역에 분포한다.
- ④ 화교 비율은 각 국가의 인구 규모와 비례한다.
- ⑤ 도시 국가인 싱가포르에서의 화교 비율이 가장 높다.

80. 다음 지도는 유럽의 농업적 토지 이용 집약도를 나타낸 것이다. 각 지역에 대한 설명 중 타당한 것을 <보기>에서 모두 고르면? [1점]



• 숫자는 집약도로서 단위 면적당 생산액을 기초로 한 것임

<보 기>

- ㄱ. '가'지역에는 낙농업이 성하다.
- ㄴ. '라'지역은 꽃의 최대 공급지이다.
- ㄷ. '다'지역의 농업 기술 수준이 가장 높다.
- ㄹ. '나'지역 중 유럽 대륙부에는 혼합 농업의 비중이 높다.

- ① ㄱ, ㄴ    ② ㄱ, ㄹ    ③ ㄴ, ㄷ    ④ ㄴ, ㄹ    ⑤ ㄷ, ㄹ